

Secretaria Adjunta de Gestão Educacional - SAGE
Superintendência de Políticas de Educação Básica – SUPEB
Superintendência de Políticas de Diversidades Educacionais – SUDE
Superintendência de Políticas de Desenvolvimento Profissional - SPDP
Superintendência de Políticas de Gestão Escolar - SUGE

Aprendizagem Conectada

Caderno de Resolução Comentada

2ª Semana



4º Ano
EF



Nome da Escola	
Nome do Estudante	
Ano/Ciclo	

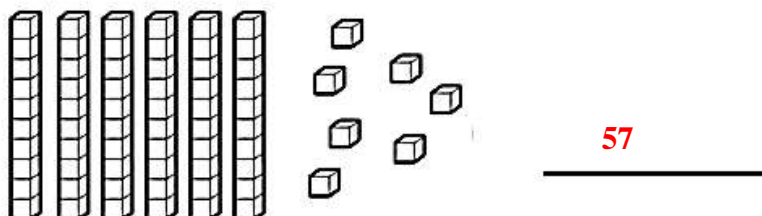
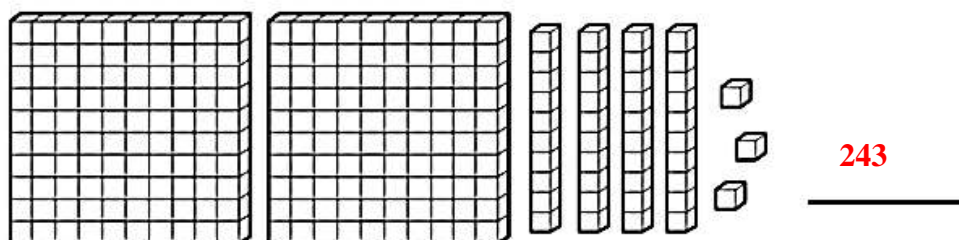
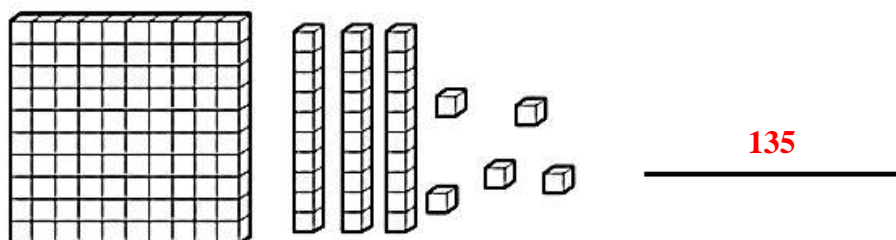
NOME DO COMPONENTE DA PARTE DIVERSIFICADA

Resolução comentada

Na atividade 1 você deverá encontrar a soma das centenas dezenas e unidades, utilizando o Material Dourado.

Já na atividade 2 você deverá desenhar o material dourado representando a numeração sugerida no exercício.

1. Observe e registre a quantidade



2. Desenhe as quantidades representadas.

134


Uma placa que representa a centena;
3 barras que representa a dezena e
4 cubinhos que representa a unidade.


56


6 barras que representa a dezena e
6 cubinhos que representa a unidade.

TRABALHANDO COM O MATERIAL DOURADO


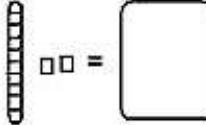
$\square = 1$ unidade



 = 1 dezena ou 10 unidades


 = 1 centena ou 100 unidades

 = 1 milhar ou 1000 unidades

Que numerais estão representados abaixo?

 $\square\square\square =$  $\square\square =$

 $=$  $\square\square\square\square =$

$\square\square\square\square\square\square =$  $=$

 $\square =$  $\square\square\square\square =$

Na atividade acima, vocês terão que encontrar o valor referente a figura utilizando o Material Dourado. As respostas seguindo a ordem apresentada são:

- | | |
|-----|-------|
| 213 | 12 |
| 50 | 1.004 |
| 6 | 320 |
| 111 | 144 |

UNIDADE DE MILHAR



Uma unidade de milhar corresponde a 1.000 unidades.
 Uma unidade de milhar corresponde a 100 dezenas.
 Uma unidade de milhar corresponde a 10 centenas.

Observe o QVL e complete.

UM	C	D	U
■			

1 - 0 - 0 - 0



- 1 unidade de milhar é = _____ unidades
- 1 unidade de milhar é = _____ dezenas
- 1 unidade de milhar é = _____ centenas

Represente nos QVL os números abaixo:

1 2 3 4

UM	C	D	U
1	2	3	4

1 4 3 8

UM	C	D	U
1	4	3	8

1 1 4 0

UM	C	D	U
1	1	4	0

1 5 2 9

UM	C	D	U
1	5	2	9

1 7 0 2

UM	C	D	U
1	7	0	2

1 3 3 5

UM	C	D	U
1	3	3	5

Na atividade acima, vocês terão que completar as lacunas conforme é sugerido na legenda.

Veja o exemplo:

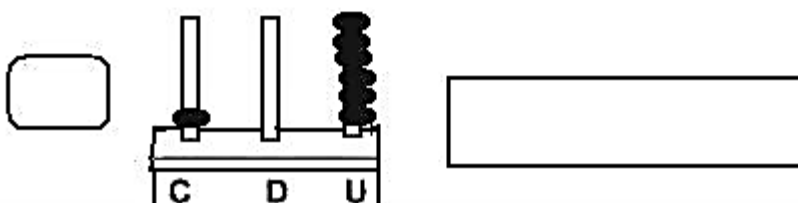
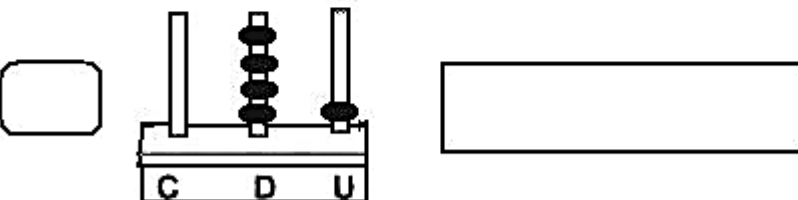
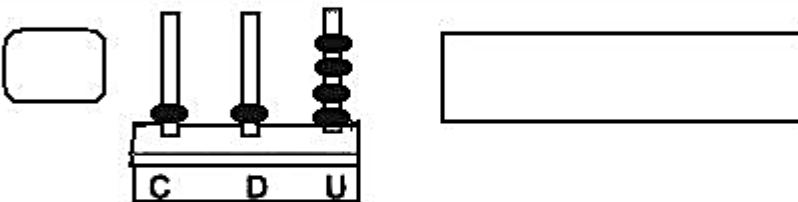
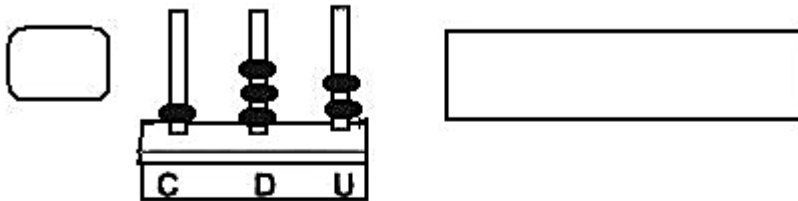
1 unidade de milhar é 1000 unidades.

1 unidade de milhar é 100 dezenas.

1 unidade de milhar é 10 unidades.

TRABALHANDO COM ÁBACO

Escreva os numerais representados:



Na atividade acima, você terá que encontrar o valor referente a figura utilizando o ábaco.

Respostas na sequência.

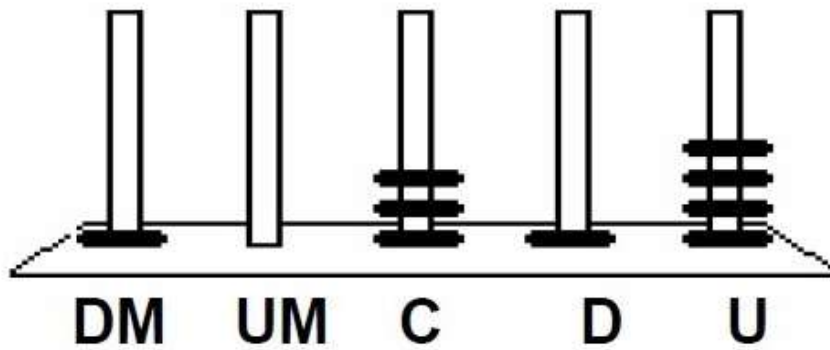
132

114

41

16

No ábaco abaixo, Cristina representou um número:



Qual foi o número representado por Cristina:

- a) () 1.314
- b) () 1.431
- c) (X) 10.314
- d) () 51.341

Resposta correta é a letra C

Na atividade acima, você terá que marcar com um X a questão correta que representa a figura mostrada no Ábaco.