



**Aprendizagem Conectada**  
**Atividades Escolares e Tarefa Semanal**  
5ª semana



# 4º Ano/EF

<b>Nome da Escola</b>	
<b>Nome do Estudante</b>	
<b>Ano/Ciclo</b>	

## ESTUDO APLICADO DE MATEMÁTICA

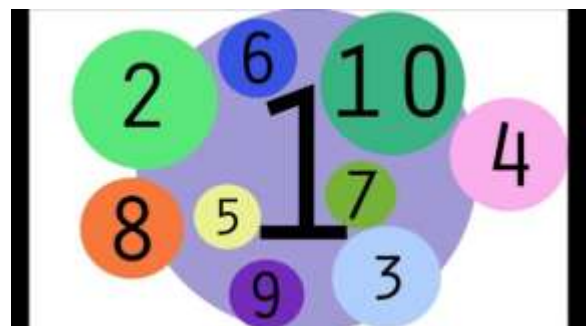
### SISTEMA DE NUMERAÇÃO

---

#### DEZENA E UNIDADE

Veja o poema a seguir. Na sequência, temos alguns desafios.

Figura 1. Números de 1 a 10.



Fonte: Números... (2020)

Figura 2. Poema sobre Dezena

# O QUE É DEZENA?

WENIDARC CINTRA

**O QUE É DEZENA?  
VOU AGORA FALAR  
CONTE DEVAGARINHO  
PARA NÃO ERRAR.  
CONTE ATÉ O DEZ  
AGORA, VOCÊ DEVE PARAR.**

**CONTE OS DEDOS,  
TAMPINHAS E BOTÕES.  
DESENHE PIPAS, BOLAS,  
LUAS E BALÕES,  
PICOLÉS, LÁPIS E COLAS.  
VOCÊ VAI APRENDER!  
O QUE É DEZENA?  
É FÁCIL ENTENDER!**




Fonte: Dezena... (2020)

## Desafios - Estudo Aplicado de Matemática

Figura 3. Dezenas e Unidades

### 1. OBSERVE AS DEZENAS E UNIDADES E SIGA O MODELO.

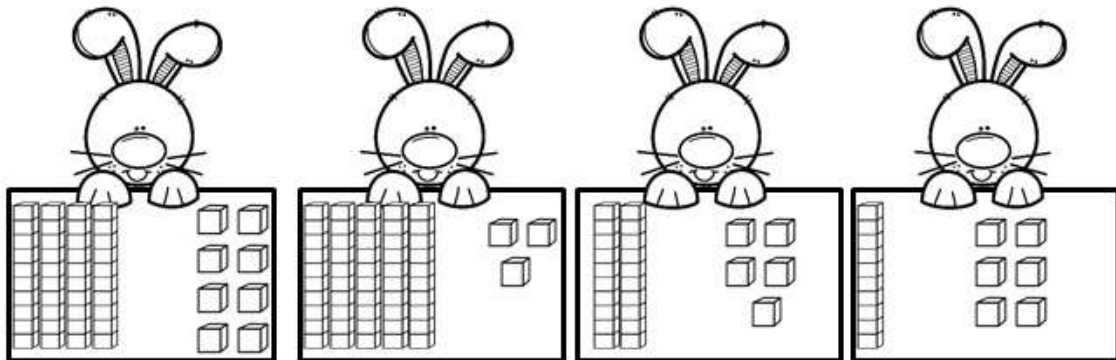


$$10 + 2 = 12$$

DOZE

\_\_\_\_\_

\_\_\_\_\_



\_\_\_\_\_

\_\_\_\_\_

### 2. ORGANIZE AS DEZENAS ACIMA EM ORDEM CRESCENTE.



\_\_\_\_\_


-----

Fonte: Dezenas e Unidades... (2020)

Figura 4. Compondo os Números

# COMPONDO OS NÚMEROS

Companha os números, procurando no caça-números o valor referente.



- a) 1 centena + 5 dezenas + 8 unidades = \_\_\_\_\_
- b) 1 centena + 7 dezenas + 5 unidades = \_\_\_\_\_
- c) 3 centenas + 6 dezenas + 3 unidades = \_\_\_\_\_
- d) 7 centenas + 4 dezenas + 1 unidade = \_\_\_\_\_
- e) 5 centenas + 3 dezenas + 2 unidades = \_\_\_\_\_
- f) 2 centenas + 5 dezenas + 4 unidades = \_\_\_\_\_

Fonte: Compondo Números... (2020).

