

Secretaria Adjunta de Gestão Educacional - SAGE
Superintendência de Políticas de Educação Básica – SUPEB
Superintendência de Políticas de Diversidades Educacionais – SUDE
Superintendência de Políticas de Desenvolvimento Profissional - SPDP
Superintendência de Políticas de Gestão Escolar - SUGE

Aprendizagem Conectada

Atividades Escolares

3ª semana



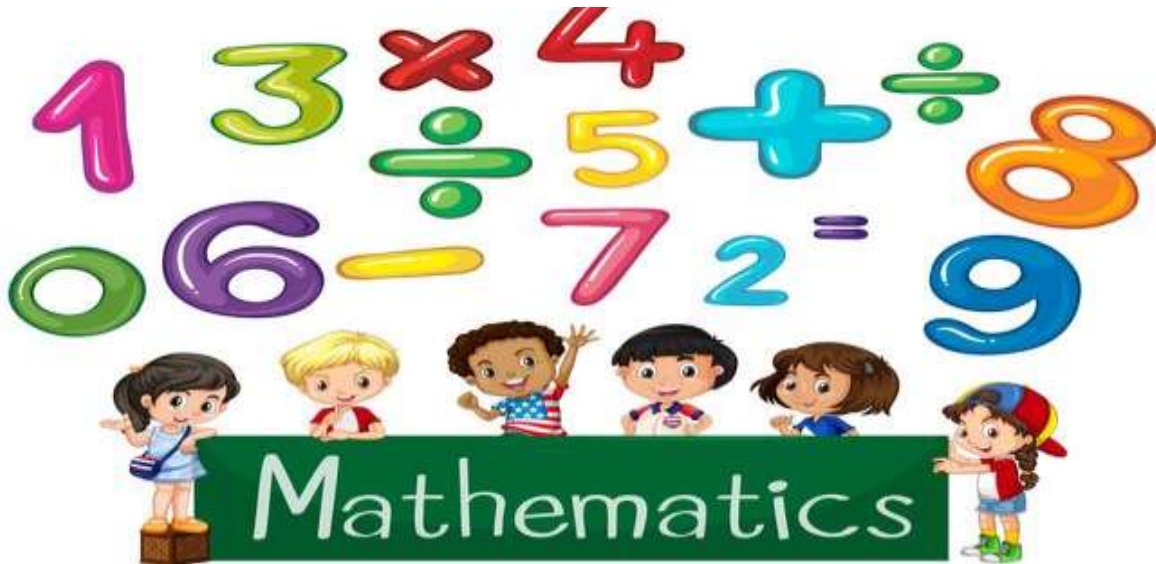
4º Ano
EF



Nome da Escola	
Nome do Estudante	
Ano/Ciclo	

ESTUDO APLICADO DE MATEMÁTICA

1. SISTEMA DE NUMERAÇÃO DECIMAL -MILHAR



Aprender Matemática
Não é coisa complicada
Dia a dia estudando
Tudo vou compreendendo.

Somar e subtrair
Multiplicar e dividir
Através das operações
Sempre encontro soluções.

Unidade, dezena, centena
Unidade de milhar
Sei compor e decompor
E no QVL representar.

Sucessor e antecessor
Isso já sei de cor
Números pares e ímpares
Já sei identificar.

As horas e os minutos
Aprendi a registrar
A hora sei programar
Para o relógio despertar.

Os dias da semana
São fáceis de aprender
Os meses do ano
Também já sei dizer.

No sistema monetário
Aprendi com o dinheiro lidar
Contar, vender e comprar
Dar o troco quando precisar.

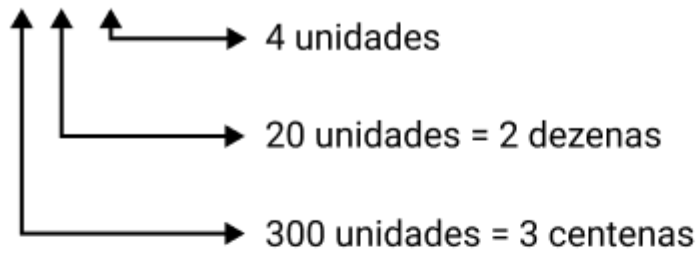
A Matemática está sempre presente
Na vida da gente
Temos que aprender
Para nunca mais esquecer.



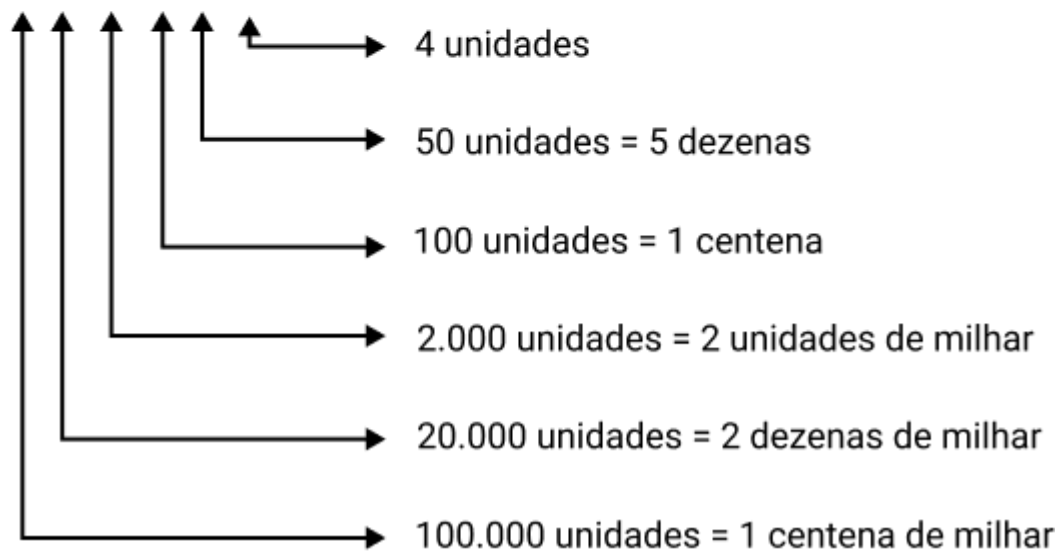
Solange Valadares

Relembrando Material apostilado da segunda semana:

324



122.154



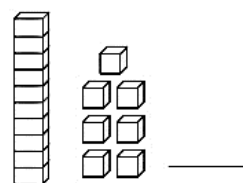
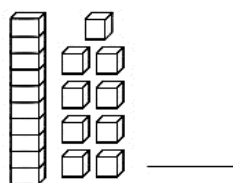
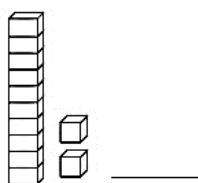
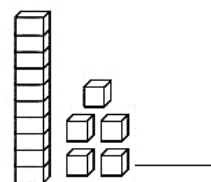
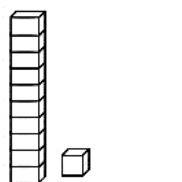
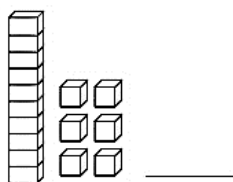
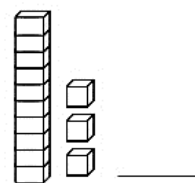
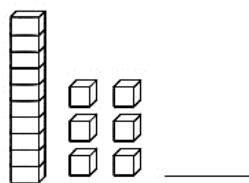
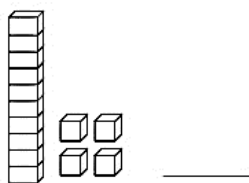
Valor posicional

UM	C	D	U
Unidade de milhar	centena	dezena	unidade

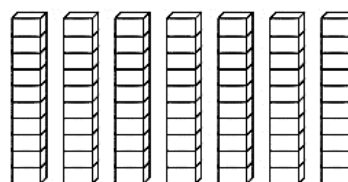
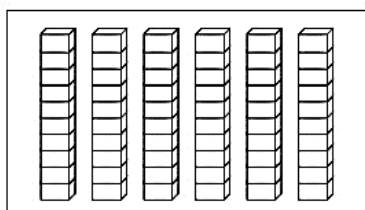
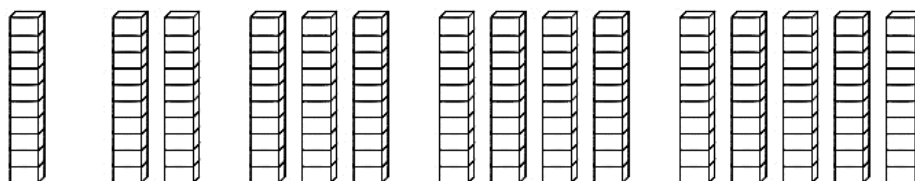
Desafio de Estudo Aplicado de Matemática

MATEMÁTICA

1- Escreva o número correspondente ao material dourado.

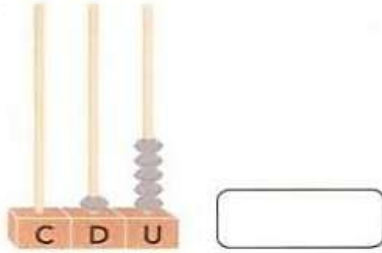


2 - Continue escrevendo o número...

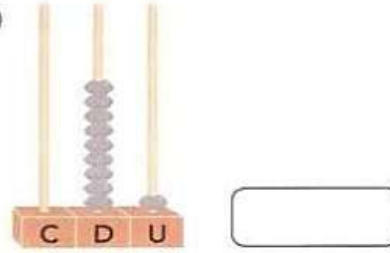


1 ESCREVA AS QUANTIDADES REPRESENTADAS EM CADA ÁBACO:

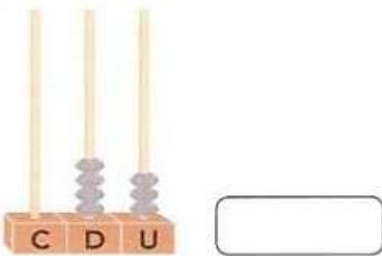
A)



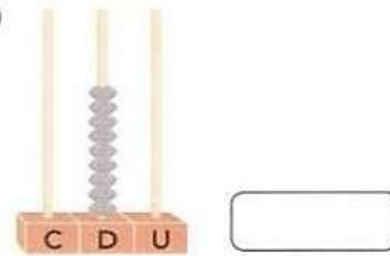
D)



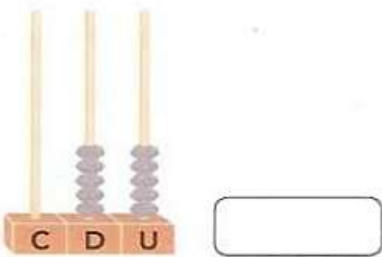
B)




E)



C)




F)




2 AGORA É COM VOCÊ! ESCREVA E REPRESENTE DOIS NÚMEROS NOS ÁBACOS ABAIXO:

A)



B)



Referências

https://c6.quickcachr.fotos.sapo.pt/i/me90114b7/6485759_BNzPQ.jpeg

https://static.vecteezy.com/system/resources/previews/000/303/121/non_2x/vector-colored-numbers-and-children-mathematics.jpg

https://2.bp.blogspot.com/_KZ97IOmgDQs/TJ_8tgg44TI/AAAAAAAAA_k/chRQ-GEuhto/s1600/1.jpg

<https://image.slidesharecdn.com/atividadescombaco-121008155127-phpapp02/95/atividades-com-baco-4-728.jpg?cb=1349711518>